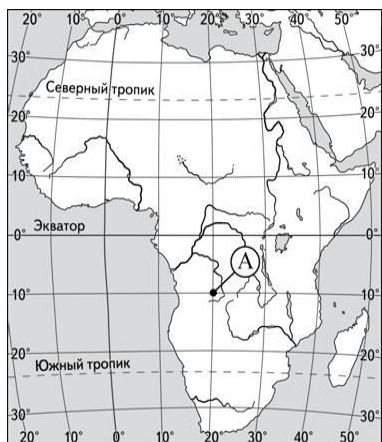


Примерные вопросы для подготовки к вступительному испытанию по географии

Вопрос №1. Точка А, обозначенная на карте Африки, имеет координаты 10° ю.ш. 20° з.д.



Ответы:

1. Неверно
2. Верно

Вопрос №2. Река Конго протекает по материку Африка с востока на запад, относится к бассейну Атлантического океана, дважды пересекает экватор.

1. Неверно
2. Верно

Вопрос №3. В Уганде отмечается сравнительно низкая средняя ожидаемая продолжительность жизни среди африканских стран.

Ответы:

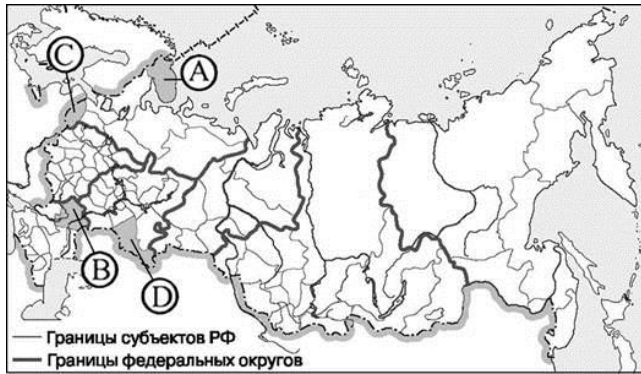
1. Неверно
2. Верно

Вопрос №4. В Самаре среднегодовое количество атмосферных осадков больше чем в Сочи.

Ответы:

1. Неверно
2. Верно

Вопрос №5. На карте России Псковская область обозначена буквой В.



Ответы:

1. Неверно
2. Верно

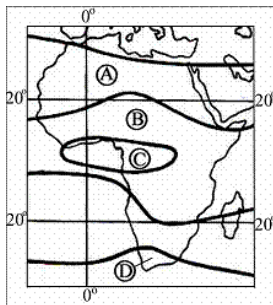
Вопрос №6. Какое из предложенных утверждений является верным?

Ответы:

сентября день равен ночи

2. средний радиус Земли больше экваториального
3. 21 марта Солнце в зените над Южным тропиком
4. 22 декабря Солнце в зенит над Северным тропиком

Вопрос №7. В какой из областей, обозначенных на карте Африки буквами, выпадает наибольшее среднегодовое количество осадков?



Ответы:

1. A
2. B
3. C

Вопрос №8. Лесная и деревообрабатывающая промышленность – отрасли международной специализации

Ответы:

1. Аргентины
2. Мексики
3. Нидерландов
4. Канады

Вопрос №9. В каком из перечисленных субъектов России индекс человеческого развития (отражает уровень валового дохода на душу населения, уровень грамотности и ожидаемую среднюю продолжительность жизни) самый высокий?

Ответы:

1. Республика Карелия
2. Республика Алтай
3. Ленинградская область
4. Санкт-Петербург

Вопрос №10. В каком из перечисленных регионов Поволжья в наибольшем количестве добывается нефть?

Ответы:

1. Республика Татарстан
2. Республика Калмыкия
3. Пензенская область
4. Астраханская область

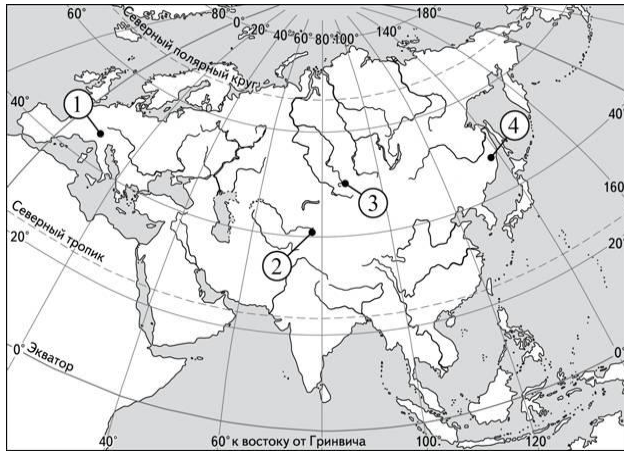
Вопрос №11. Какие из перечисленных горных пород относятся по происхождению к магматическим?

Ответы:

1. Пемза
2. Мрамор
3. Базальт
4. Гранит

Вопрос №12. Установите соответствие между горной системой и обозначением на карте горной вершины, находящейся в пределах этой горной системы: к каждому элементу первого столбца подберите соответствующий элемент из второго столбца.

Запишите в таблицу выбранные цифры под соответствующими буквами.



Ответы:

ГОРНАЯ СИСТЕМА

- а) Альпы
- б) Сихотэ-Алинь
- в) Алтай

РАСПОЛОЖЕНИЕ НА КАРТЕ

Ответ: _____

Вопрос №13. Какая из перечисленных стран **не** входит в десятку мировых лидеров по улову рыбы и морепродуктов?

Ответы:

- 1. Великобритания
- 2. Китай
- 3. Монголия
- 4. Чили

Вопрос №14. Определите страну по её краткому описанию.

Эта страна находится на полуострове. Она относится к числу крупных по площади территории стран на материке, на котором она расположена. Большую часть её территории занимает плоскогорье. Здесь преобладают пустынные ландшафты. В недрах сосредоточены огромные запасы нефти. Большинство населения страны – арабы.

Ответы:

- 1. Индия

2. Австралия
3. Бельгия
4. Саудовская Аравия

Вопрос №15. ООО «Ростовский электрометаллургический завод» – металлургический завод нового типа, выпускающий высококачественную продукцию по технологии непрерывной разливки стали. Его производственная мощность составляет 730 тыс. тонн стали в год. Сырьём является металлолом, готовой продукцией – стальные прокатные заготовки и стальная строительная арматура. Карты какого географического района России необходимо выбрать, чтобы изучить географические особенности Ростовской области?

Ответы:

1. севера европейской части России
2. Урала
3. юга европейской части России
4. Поволжья